

	日々のプリント	得点
小学6年生 No.20	☆必ずマル付けをしよう。 ☆やり直しをしっかりとしよう。	点

1 次の計算をしなさい。(10点×4)

① $9.9 - 1.2 \times 3.8$

② $3.15 + 0.72 \div 0.8$

③ $40.5 \times (1.4 \times 0.6 + 0.33)$

④ $(8.1 + 27.05 \times 3) \div 0.25$

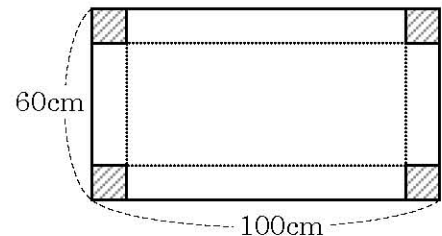
①	②	③	④
---	---	---	---

2 たて60cm，横100cmの長方形があります。この長方形の4すみから1辺10cmの正方形を切り取ってできる容器について，次の問いに答えなさい。(15点×2)

☎【問題コード s60916 パスワード 4999】

① 容積は何ℓですか。

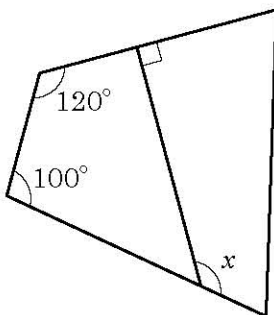
② 水を16ℓ入れると，深さは何cmになりますか。



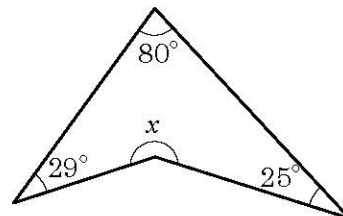
①	l	②	cm
---	-----	---	----

3 下の図の x の角の大きさを求めなさい。(15点×2)

①



②



①	度	②	度
---	---	---	---